



## 1<sup>o</sup> Teste

14 de Novembro, 2014 (18H00)

Duração do teste: 1H30

Mestrado em Eng. Electrotécnica e de Computadores (MEEC)

**Electromagnetismo e Óptica**

1<sup>o</sup> semestre de 2013-14

Prof. Fernando Barão (Responsável)

Prof. Filipe Mendes

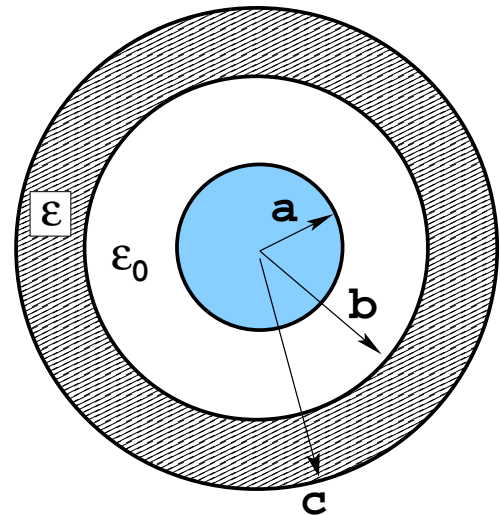
Prof. Ana Maria Martins

Avisos:

- Durante a realização do teste/exame não é permitido o uso de telemóveis e calculadoras.
- Identifique claramente todas as folhas do teste/exame.
- Inicie a resolução de cada um dos grupo numa nova página.
- Realize sempre em primeiro lugar os cálculos analíticos e só no final substitua pelos valores numéricos.

### Problema 1

Uma esfera condutora de raio  $a$  possui uma carga eléctrica  $+Q$  no seu interior. À sua volta, concêntrica com a esfera, existe uma coroa esférica dieléctrica, de permissividade eléctrica  $\epsilon$  e raios interior  $b$  e exterior  $c$ , onde foi depositada carga eléctrica que se encontra uniformemente distribuída na coroa, com densidade  $\rho$  C/m<sup>3</sup>. Entre a esfera condutora e a coroa esférica existe ar ( $\epsilon_0$ ).

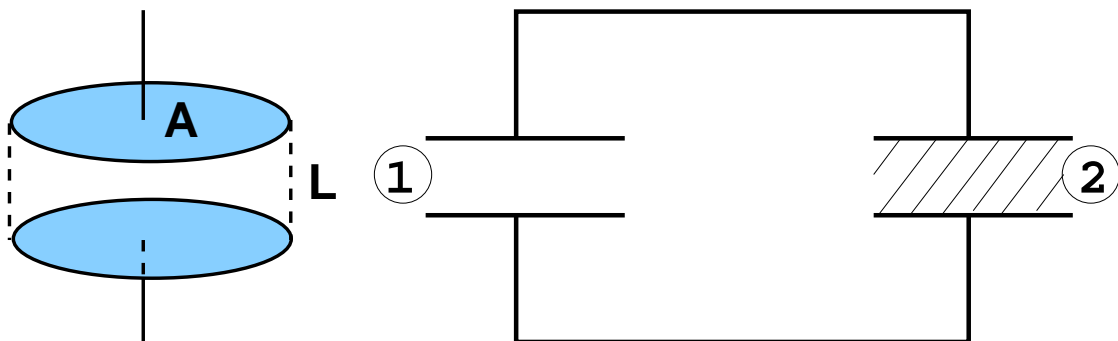


- [0.5] a) Diga, justificando, onde se encontra distribuída a carga eléctrica no condutor de raio  $a$ ?
- [1.5] b) Determine detalhadamente o campo eléctrico no interior da esfera ( $r < a$ ) e na região entre a esfera e a coroa  $a < r < b$ .
- [1.0] c) Sabendo que o campo eléctrico no exterior da coroa esférica dieléctrica ( $r > c$ ) é nulo, determine a carga total existente na coroa e a sua densidade volúmica de carga,  $\rho$ .
- [1.0] d) Determine o potencial eléctrico da esfera condutora, impondo  $\phi(r = c) = 0$ .
- [0.5] e) Diga, justificando qualitativamente, como variaria a energia electrostática do dispositivo caso o dieléctrico se transformasse num condutor, conservando a mesma carga eléctrica.

## Problema 2

Dois condensadores ① e ② de faces paralelas e geometria idêntica estão ligados entre si, sendo cada um deles constituído por dois planos condutores de área  $A$ , separados por uma distância  $L$  ( $L \ll \sqrt{A}$ ). O condensador ① possui ar entre as placas ( $\epsilon_0$ ) e o condensador ② possui um dieléctrico de mica de permitividade  $\epsilon = 4\epsilon_0$ . Os dois condensadores foram carregados electricamente com uma carga total  $Q_1 + Q_2 = 2Q$ .

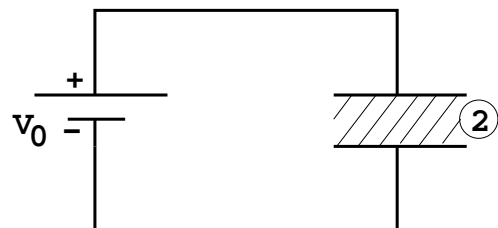
*Nota: neste problema conhece-se somente à partida a carga total  $2Q$ , sendo desconhecida a carga existente em cada condensador.*



- [1.0] a) Determine a capacidade de cada um dos condensadores, justificando os cálculos.
- [1.0] b) Determine a carga eléctrica existente nos condensadores ① e ②.
- [1.0] c) Determine a energia electrostática armazenada no condensador ② e a força existente entre as placas do condensador. Interprete o sinal obtido.
- [1.0] d) Determine a densidade de carga de polarização existente no dieléctrico do condensador ②.

Admita agora que o dieléctrico de mica não é um isolante perfeito e que possui uma condutividade eléctrica  $\sigma_c$ , sendo ligado a uma bateria de tensão  $V_0$ . Existirá assim uma corrente eléctrica estacionária no circuito.

- [0.5] e) Escreva a equação de conservação de carga no dieléctrico e derive daí as características do campo eléctrico existente no seu interior.
- [1.0] f) Determine a densidade de corrente eléctrica e a resistência eléctrica do circuito.



Electrostática

- $\vec{E} = \frac{1}{4\pi\epsilon_0} \frac{q}{r^2} \vec{u}_r$
- $\frac{1}{4\pi\epsilon_0} = 9 \times 10^9 \text{ N.m}^2.\text{C}^{-2}$
- $\oint_{\Gamma} \vec{E} \cdot d\vec{\ell} = 0$   
 $\nabla \times \vec{E} = 0$
- $\oint_S \vec{D} \cdot \vec{n} dS = \int_V \rho_{liv} dv$   
 $\vec{\nabla} \cdot \vec{D} = \rho_{liv}$
- $\oint_S \vec{P} \cdot \vec{n} dS = - \int_V \rho_{pol} dv$   
 $\rho_{pol} = -\vec{\nabla} \cdot \vec{P}$   
 $\sigma_{pol} = \vec{P} \cdot \vec{n}_{ext}$
- $\phi_P = \int_P^{Ref} \vec{E} \cdot d\vec{\ell}$   
 $\vec{E} = -\vec{\nabla} \phi$
- $\vec{D} = \vec{P} + \epsilon_0 \vec{E}$   
 $\vec{D} = \epsilon_0(1 + \chi_E) \vec{E} = \epsilon \vec{E}$
- $Q = CV$
- $U_E = \left[ \frac{1}{2} \right] \sum_i q_i \phi_i$
- $u_E = \frac{1}{2} \epsilon E^2$   
 $U_E = \int_V u_E dv$
- $\vec{F}_s = \pm \frac{dU_E}{ds} \vec{u}_s$

Corrente eléctrica estacionária

- $\vec{J} = Nq\vec{v}$
- $\vec{J} = \sigma_c \vec{E}$
- $I = \int_S \vec{J} \cdot \vec{n} dS$
- $p = \vec{J} \cdot \vec{E}$
- $\oint_S \vec{J} \cdot \vec{n} dS = - \frac{d}{dt} \int_V \rho dv$   
 $\vec{\nabla} \cdot \vec{J} = - \frac{d\rho}{dt}$

Ondas electromagnéticas

- $\vec{S} = \vec{E} \times \vec{H}$
- $\vec{n} = \frac{\vec{k}}{\kappa} = \frac{\vec{E}}{E} \times \frac{\vec{B}}{B}$
- $\frac{E}{B} = v$
- $v = \frac{1}{\sqrt{\epsilon\mu}}$
- $u = u_E + u_M$
- $I = \langle \vec{S} \cdot \vec{n} \rangle$

Magnetostática

- $\vec{B} = \int_{\Gamma} \frac{\mu_0}{4\pi} \frac{I d\vec{\ell} \times \vec{u}_r}{r^2}$   
 $\frac{\mu_0}{4\pi} = 10^{-7} \text{ H/m}$
- $d\vec{F} = I d\vec{\ell} \times \vec{B}$
- $\oint_S \vec{B} \cdot \vec{n} dS = 0$   
 $\vec{\nabla} \cdot \vec{B} = 0$
- $\oint_{\Gamma} \vec{H} \cdot d\vec{\ell} = \int_S \vec{J} \cdot \vec{n} dS$   
 $\vec{\nabla} \times \vec{H} = \vec{J}$
- $\vec{B} = \mu_0(\vec{M} + \vec{H})$   
 $\vec{B} = \mu_0(1 + \chi_m) \vec{H} = \mu \vec{H}$
- $\oint_{\Gamma} \vec{M} \cdot d\vec{\ell} = \int_S \vec{J}_M \cdot \vec{n} dS$   
 $\vec{J}_M = \vec{\nabla} \times \vec{M}$   
 $\vec{J}'_M = \vec{M} \times \vec{n}_{ext}$

Interação de partículas e campos

- $\vec{F} = q(\vec{E} + \vec{v} \times \vec{B})$

Campos variáveis e indução

- $\oint_{\Gamma} \vec{E} \cdot d\vec{\ell} = - \frac{d}{dt} \int_S \vec{B} \cdot \vec{n} dS$   
 $\vec{\nabla} \times \vec{E} = - \frac{\partial \vec{B}}{\partial t}$
- $\Phi_i = L_i I_i + M_{ij} I_j$
- $U_M = \left[ \frac{1}{2} \right] \sum_i \Phi_i I_i$
- $u_M = \frac{1}{2} \frac{B^2}{\mu}$   
 $U_M = \int_V u_M dv$
- $\vec{F}_s = \pm \frac{dU_M}{ds} \vec{u}_s$
- $\oint_{\Gamma} \vec{H} \cdot d\vec{\ell} = \int_S \vec{J} \cdot \vec{n} dS + \frac{d}{dt} \int_S \vec{D} \cdot \vec{n} dS$   
 $\vec{\nabla} \times \vec{H} = \vec{J} + \frac{\partial \vec{D}}{\partial t}$

Óptica

- $n_1 \text{sen}\theta_1 = n_2 \text{sen}\theta_2$
- $\text{tg}\theta_B = \frac{n_2}{n_1}$   
interferência entre fendas
- $d \text{sen}\theta_{max} = m\lambda$
- $d \text{sen}\theta_{min} = m\lambda + \frac{\lambda}{m}$  ( $m' \leq N$  e par)
- difracção
- $a \text{sen}\theta_{min} = m\lambda$

**Algumas Primitivas**

$$\int \frac{dx}{(x^2 + b)^{3/2}} = \frac{1}{b} \frac{x}{\sqrt{x^2 + b}}$$

$$\int \frac{xdx}{(x^2 + b)^{3/2}} = -\frac{1}{\sqrt{x^2 + b}}$$

$$\int \frac{xdx}{\sqrt{x^2 + b}} = \sqrt{x^2 + b}$$

$$\int \frac{dx}{\sqrt{x^2 + b}} = \ln(x + \sqrt{x^2 + b})$$

$$\int \frac{dx}{x(x+a)} = \frac{1}{a} \ln\left(\frac{x}{x+a}\right)$$

Para o cálculo analítico de integrais pode ser consultado o endereço web: <http://integrals.wolfram.com>

**Coordenadas cartesianas (x, y, z)**

$$d\vec{\ell} = dx \vec{u}_x + dy \vec{u}_y + dz \vec{u}_z$$

$$dS = dx dy$$

$$dV = dx dy dz$$

$$\vec{\nabla} F = \left( \frac{\partial F}{\partial x}, \frac{\partial F}{\partial y}, \frac{\partial F}{\partial z} \right)$$

$$\vec{\nabla} \cdot \vec{A} = \frac{\partial A_x}{\partial x} + \frac{\partial A_y}{\partial y} + \frac{\partial A_z}{\partial z}$$

$$\vec{\nabla} \times \vec{A} = \left( \frac{\partial}{\partial x}, \frac{\partial}{\partial y}, \frac{\partial}{\partial z} \right) \times (A_x, A_y, A_z)$$

**Coordenadas polares (r, θ)**

$$d\vec{\ell} = dr \vec{u}_r + r d\theta \vec{u}_\theta$$

$$dS = r dr d\theta$$

**Coordenadas cilíndricas (r, θ, z)**

$$d\vec{\ell} = dr \vec{u}_r + r d\theta \vec{u}_\theta + dz \vec{u}_z$$

$$dV = r dr d\theta dz$$

$$\vec{\nabla} F = \left( \frac{\partial F}{\partial r}, \frac{1}{r} \frac{\partial F}{\partial \theta}, \frac{\partial F}{\partial z} \right)$$

$$\vec{\nabla} \cdot \vec{A} = \frac{1}{r} \frac{\partial (r A_r)}{\partial r} + \frac{1}{r} \frac{\partial A_\theta}{\partial \theta} + \frac{\partial A_z}{\partial z}$$

$$\vec{\nabla} \times \vec{A} = \left( \frac{1}{r} \frac{\partial A_z}{\partial \theta} - \frac{\partial A_\theta}{\partial z} \right) \vec{u}_r + \left( \frac{\partial A_r}{\partial z} - \frac{\partial A_z}{\partial r} \right) \vec{u}_\theta + \left( \frac{1}{r} \frac{\partial (r A_\theta)}{\partial r} - \frac{1}{r} \frac{\partial A_r}{\partial \theta} \right) \vec{u}_z$$

**Coordenadas esféricas (r, θ, φ)**

$$d\vec{\ell} = dr \vec{u}_r + r d\theta \vec{u}_\theta + r \sin\theta d\phi \vec{u}_\phi$$

$$dV = r^2 dr \sin\theta d\theta d\phi$$

$$\vec{\nabla} F = \left( \frac{\partial F}{\partial r}, \frac{1}{r} \frac{\partial F}{\partial \theta}, \frac{1}{r \sin\theta} \frac{\partial F}{\partial \phi} \right)$$

$$\vec{\nabla} \cdot \vec{A} = \frac{1}{r^2} \frac{\partial}{\partial r} (r^2 A_r) + \frac{1}{r \sin\theta} \frac{\partial}{\partial \theta} (\sin\theta A_\theta) + \frac{1}{r \sin\theta} \frac{\partial}{\partial \phi} (A_\phi)$$

$$\vec{\nabla} \times \vec{A} = \left[ \frac{1}{r \sin\theta} \frac{\partial (\sin\theta A_\phi)}{\partial \theta} - \frac{\partial (\sin\theta A_\theta)}{\partial \phi} \right] \vec{u}_r + \frac{1}{r} \left[ \frac{1}{\sin\theta} \frac{\partial A_r}{\partial \phi} - \frac{\partial (r A_\phi)}{\partial r} \right] \vec{u}_\theta + \frac{1}{r} \left[ \frac{\partial (r A_\theta)}{\partial r} - \frac{\partial A_r}{\partial \theta} \right] \vec{u}_\phi$$

**Teorema da Divergência**

$$\int_V \vec{\nabla} \cdot \vec{A} dV = \oint_S \vec{A} \cdot \vec{n} dS$$

**Teorema da Stokes**

$$\int_S \vec{\nabla} \times \vec{A} \cdot d\vec{S} = \oint_{\Gamma} \vec{A} \cdot d\vec{\ell}$$

**Identidades vectoriais**

$$\vec{\nabla} \cdot (\vec{A} \times \vec{B}) = \vec{B} \cdot (\vec{\nabla} \times \vec{A}) - \vec{A} \cdot (\vec{\nabla} \times \vec{B})$$

$$\vec{\nabla} \cdot (\vec{\nabla} \times \vec{A}) = 0$$

$$\vec{\nabla} \times (\vec{\nabla} \times \vec{A}) = \vec{\nabla} (\vec{\nabla} \cdot \vec{A}) - \nabla^2 \vec{A}$$